

Единый государственный экзамен по МАТЕМАТИКЕ

Базовый уровень

Инструкция по выполнению работы

Экзаменационная работа включает в себя 20 заданий.

На выполнение работы отводится 3 часа (180 минут).

Ответы к заданиям записываются по приведённым ниже образцам в виде числа или последовательности цифр. Сначала запишите ответы к заданиям в поле ответа в тексте работы, а затем перенесите их в бланк ответов № 1 справа от номера соответствующего задания.

КИМ Ответ: -0,6.

| | | | | | | | | | | | | | | | | | | | |
|---|---|---|---|--|--|--|--|--|--|--|--|--|--|--|--|--|--|--|--|
| - | 0 | , | 6 | | | | | | | | | | | | | | | | |
|---|---|---|---|--|--|--|--|--|--|--|--|--|--|--|--|--|--|--|--|

Бланк

Если ответом является последовательность цифр, как в приведённом ниже примере, то запишите эту последовательность в бланк ответов № 1 без пробелов, запятых и других дополнительных символов.

КИМ

Ответ:

| А | Б | В | Г |
|---|---|---|---|
| 4 | 3 | 1 | 2 |

| | | | | | | | | | | | | | | | | | | | |
|---|---|---|---|--|--|--|--|--|--|--|--|--|--|--|--|--|--|--|--|
| 4 | 3 | 1 | 2 | | | | | | | | | | | | | | | | |
|---|---|---|---|--|--|--|--|--|--|--|--|--|--|--|--|--|--|--|--|

Бланк

Все бланки ЕГЭ заполняются яркими чёрными чернилами. Допускается использование гелевой или капиллярной ручки.

При выполнении заданий можно пользоваться черновиком. **Записи в черновике, а также в тексте контрольных измерительных материалов не учитываются при оценивании работы.**

Баллы, полученные Вами за выполненные задания, суммируются. Постарайтесь выполнить как можно больше заданий и набрать наибольшее количество баллов.

После завершения работы проверьте, чтобы ответ на каждое задание в бланке ответов № 1 был записан под правильным номером.

Желаем успеха!

Ответом к каждому заданию является конечная десятичная дробь, или целое число, или последовательность цифр. Ответ сначала запишите в поле ответа в тексте работы, а затем перенесите в БЛАНК ОТВЕТОВ № 1 справа от номера соответствующего задания. Каждую цифру, знак «минус» и запятую пишите в отдельной клеточке в соответствии с приведёнными в бланке образцами. Единицы измерений писать не нужно.

1 Найдите значение выражения $\frac{26}{5} \cdot \frac{13}{45} \cdot \frac{7}{9}$.

Ответ: _____.

2 Найдите значение выражения $\frac{12^{12}}{2^{14} \cdot 6^{11}}$.

Ответ: _____.

3 Число хвойных деревьев в парке относится к числу лиственных как 17 : 33. Других деревьев в парке нет. Сколько процентов деревьев в парке составляют лиственные?

Ответ: _____.

4 Радиус окружности, описанной около треугольника, можно вычислить по формуле $R = \frac{a}{2 \sin \alpha}$, где a — сторона, а α — противолежащий ей угол треугольника. Пользуясь этой формулой, найдите радиус R , если $a = 10$ и $\sin \alpha = \frac{1}{3}$.

Ответ: _____.

5 Найдите значение выражения $\frac{3}{2} \sqrt{20} \cdot \sqrt{5}$.

Ответ: _____.

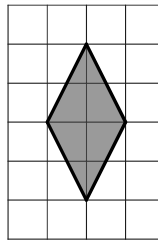
- 6 Стоимость проездного билета на месяц составляет 650 рублей, а стоимость билета на одну поездку — 28 рублей. Аня купила проездной и сделала за месяц 45 поездок. На сколько рублей больше она бы потратила, если бы покупала билеты на одну поездку?

Ответ: _____.

- 7 Решите уравнение $x^2 - 5x = 0$.
Если уравнение имеет более одного корня, в ответе укажите больший из них.

Ответ: _____.

- 8 План местности разбит на клетки. Каждая клетка обозначает квадрат $1\text{ м} \times 1\text{ м}$. Найдите площадь участка, выделенного на плане. Ответ дайте в квадратных метрах.



Ответ: _____.

- 9 Установите соответствие между величинами и их возможными значениями: к каждому элементу первого столбца подберите соответствующий элемент из второго столбца.

| ВЕЛИЧИНЫ | ЗНАЧЕНИЯ |
|----------------------------------|----------------------|
| А) объём бытового холодильника | 1) 120 м^3 |
| Б) объём железнодорожного вагона | 2) 1,5 л |
| В) объём пакета сока | 3) 908 км^3 |
| Г) объём воды в Ладожском озере | 4) 300 л |

В таблице под каждой буквой, соответствующей величине, укажите номер её возможного значения.

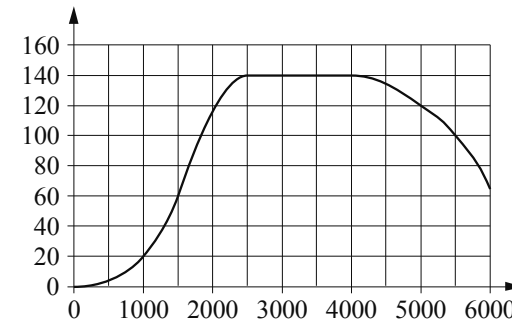
Ответ:

| А | Б | В | Г |
|---|---|---|---|
| | | | |

- 10 На чемпионате по прыжкам в воду выступают 25 спортсменов, среди них 6 прыгунов из России и 8 прыгунов из Китая. Порядок выступлений определяется жеребьёвкой. Найдите вероятность того, что первым будет выступать прыгун из Китая.

Ответ: _____.

- 11 На графике показана зависимость крутящего момента автомобильного двигателя от числа оборотов в минуту. На горизонтальной оси отмечено число оборотов в минуту, на вертикальной оси — крутящий момент в $\text{Н} \cdot \text{м}$. Чтобы автомобиль начал движение, крутящий момент должен быть не менее $20\text{ Н} \cdot \text{м}$.



Определите по графику, какого наименьшего числа оборотов двигателя в минуту достаточно, чтобы автомобиль начал движение.

Ответ: _____.

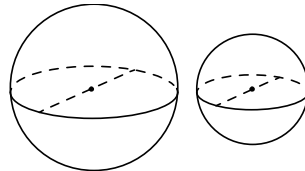
- 12** Алексей хочет купить пылесос в магазине, который находится не дальше 1,6 км от его дома. В таблице показано 6 предложений от разных магазинов и их удалённость от дома Алексея.

| Номер магазина | Стоимость пылесоса (руб.) | Удалённость от дома Алексея (км) |
|----------------|---------------------------|----------------------------------|
| 1 | 5499 | 1,7 |
| 2 | 5450 | 2,8 |
| 3 | 4890 | 2,2 |
| 4 | 5299 | 1,1 |
| 5 | 4990 | 2,5 |
| 6 | 6350 | 0,5 |

Найдите наименьшую стоимость пылесоса в магазинах (из представленных), удовлетворяющих данному условию. Ответ дайте в рублях.

Ответ: _____.

- 13** Однородный шар диаметром 6 см весит 432 грамма. Сколько граммов весит шар диаметром 4 см, изготовленный из того же материала?



Ответ: _____.

- 14** Установите соответствие между функциями и характеристиками этих функций на отрезке $[1;5]$.

ФУНКЦИИ

- А) $y = 4x - 6$
 Б) $y = -3x + 6$
 В) $y = 2x^2 - 7x + 7$
 Г) $y = -x^2 + 4x - 5$

ХАРАКТЕРИСТИКИ

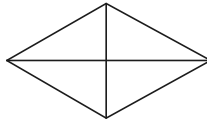
- 1) функция убывает на отрезке $[1;5]$
 2) функция принимает отрицательное значение в каждой точке отрезка $[1;5]$
 3) функция принимает положительное значение в каждой точке отрезка $[1;5]$
 4) функция возрастает на отрезке $[1;5]$

В таблице под каждой буквой укажите соответствующий номер.

Ответ:

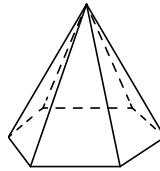
| А | Б | В | Г |
|---|---|---|---|
| | | | |

- 15 Сумма двух углов ромба равна 120° , а его периметр равен 84. Найдите длину меньшей диагонали ромба.



Ответ: _____.

- 16 Сторона основания правильной шестиугольной пирамиды равна 14, боковое ребро равно 25. Найдите площадь боковой поверхности этой пирамиды.



Ответ: _____.

- 17 Число m равно $\log_2 5$.

Каждому из четырёх чисел в левом столбце соответствует отрезок, которому оно принадлежит. Установите соответствие между числами и отрезками из правого столбца.

ЧИСЛА

- А) $\frac{6}{m}$
 Б) m^2
 В) $m - 2$
 Г) $4 - m$

ОТРЕЗКИ

- 1) $[0; 1]$
 2) $[1; 2]$
 3) $[2; 3]$
 4) $[4; 6]$

Впишите в приведённую в ответе таблицу под каждой буквой соответствующий номер отрезка.

Ответ:

| А | Б | В | Г |
|---|---|---|---|
| | | | |

- 18 Марусе на день рождения подарили 20 шариков, из которых 13 красные, а остальные синие. Маруся на четырёх случайных шариках нарисовала рисунки маркером, чтобы подарить маме, папе, брату и сестре. Выберите все утверждения, которые будут верны при указанных условиях независимо от того, на каких шариках Маруся нарисовала рисунки.

- 1) Найдётся 2 синих шарика без рисунков.
- 2) Если шарик красный, то на нём есть рисунок.
- 3) Найдётся 4 красных шарика с рисунками.
- 4) Не найдётся 5 синих шариков с рисунками.

В ответе запишите номера выбранных утверждений без пробелов, запятых и других дополнительных символов.

Ответ: _____.

- 19 Найдите трёхзначное натуральное число, кратное 60, все цифры которого различны, а сумма квадратов цифр делится на 5, но не делится на 25. В ответе укажите какое-нибудь одно такое число.

Ответ: _____.

- 20 На ленте по разные стороны от её середины отмечены две тонкие поперечные полоски: синяя и красная. Если разрезать ленту по красной полоске, то одна часть будет на 25 см длиннее другой. Если разрезать ленту по синей полоске, то одна часть будет на 5 см длиннее другой. Найдите расстояние (в сантиметрах) между красной и синей полосками.

Ответ: _____.



Не забудьте перенести все ответы в бланк ответов № 1 в соответствии с инструкцией по выполнению работы. Проверьте, чтобы каждый ответ был записан в строке с номером соответствующего задания.

Единый государственный экзамен по МАТЕМАТИКЕ

Базовый уровень

Справочные материалы

Алгебра

Таблица квадратов целых чисел от 0 до 99

| Десятки | Единицы | | | | | | | | | |
|---------|---------|------|------|------|------|------|------|------|------|------|
| | 0 | 1 | 2 | 3 | 4 | 5 | 6 | 7 | 8 | 9 |
| 0 | 0 | 1 | 4 | 9 | 16 | 25 | 36 | 49 | 64 | 81 |
| 1 | 100 | 121 | 144 | 169 | 196 | 225 | 256 | 289 | 324 | 361 |
| 2 | 400 | 441 | 484 | 529 | 576 | 625 | 676 | 729 | 784 | 841 |
| 3 | 900 | 961 | 1024 | 1089 | 1156 | 1225 | 1296 | 1369 | 1444 | 1521 |
| 4 | 1600 | 1681 | 1764 | 1849 | 1936 | 2025 | 2116 | 2209 | 2304 | 2401 |
| 5 | 2500 | 2601 | 2704 | 2809 | 2916 | 3025 | 3136 | 3249 | 3364 | 3481 |
| 6 | 3600 | 3721 | 3844 | 3969 | 4096 | 4225 | 4356 | 4489 | 4624 | 4761 |
| 7 | 4900 | 5041 | 5184 | 5329 | 5476 | 5625 | 5776 | 5929 | 6084 | 6241 |
| 8 | 6400 | 6561 | 6724 | 6889 | 7056 | 7225 | 7396 | 7569 | 7744 | 7921 |
| 9 | 8100 | 8281 | 8464 | 8649 | 8836 | 9025 | 9216 | 9409 | 9604 | 9801 |

Свойства арифметического квадратного корня

$$\sqrt{ab} = \sqrt{a} \cdot \sqrt{b} \text{ при } a \geq 0, b \geq 0 \quad \sqrt{\frac{a}{b}} = \frac{\sqrt{a}}{\sqrt{b}} \text{ при } a \geq 0, b > 0$$

Корни квадратного уравнения $ax^2 + bx + c = 0, a \neq 0$

$$x_1 = \frac{-b - \sqrt{b^2 - 4ac}}{2a}, \quad x_2 = \frac{-b + \sqrt{b^2 - 4ac}}{2a} \text{ при } b^2 - 4ac > 0$$

$$x = -\frac{b}{2a} \text{ при } b^2 - 4ac = 0$$

Формулы сокращённого умножения

$$(a + b)^2 = a^2 + 2ab + b^2$$

$$(a - b)^2 = a^2 - 2ab + b^2$$

$$a^2 - b^2 = (a + b)(a - b)$$

Степень и логарифм

Свойства степени при $a > 0, b > 0$

$$a^{-n} = \frac{1}{a^n}$$

$$a^n \cdot a^m = a^{n+m}$$

$$\frac{a^n}{a^m} = a^{n-m}$$

$$(a^n)^m = a^{nm}$$

$$(ab)^n = a^n \cdot b^n$$

$$\left(\frac{a}{b}\right)^n = \frac{a^n}{b^n}$$

Свойства логарифма при $a > 0, a \neq 1, b > 0, x > 0, y > 0$

$$a^{\log_a b} = b$$

$$\log_a a = 1$$

$$\log_a 1 = 0$$

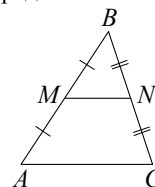
$$\log_a (xy) = \log_a x + \log_a y$$

$$\log_a \left(\frac{x}{y}\right) = \log_a x - \log_a y$$

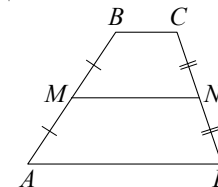
$$\log_a b^k = k \log_a b$$

Геометрия

Средняя линия треугольника и трапеции

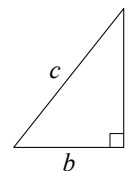


MN — ср. лин.
 $MN \parallel AC$
 $MN = \frac{AC}{2}$



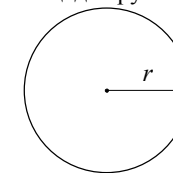
$BC \parallel AD$
 MN — ср. лин.
 $MN \parallel AD$
 $MN = \frac{BC + AD}{2}$

Теорема Пифагора

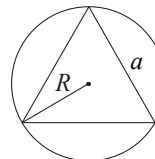


$$a^2 + b^2 = c^2$$

Длина окружности $C = 2\pi r$
 Площадь круга $S = \pi r^2$

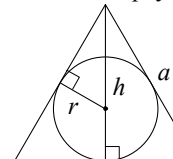


Описанная и вписанная окружности правильного треугольника



$$R = \frac{a\sqrt{3}}{3}$$

$$S = \frac{a^2\sqrt{3}}{4}$$

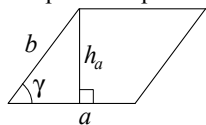


$$r = \frac{a\sqrt{3}}{6}$$

$$h = \frac{a\sqrt{3}}{2}$$

Площади фигур

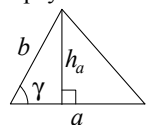
Параллелограмм



$$S = ah_a$$

$$S = ab \sin \gamma$$

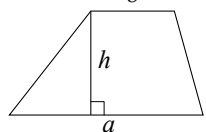
Треугольник



$$S = \frac{1}{2} ah_a$$

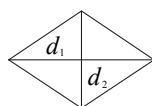
$$S = \frac{1}{2} ab \sin \gamma$$

Трапеция



$$S = \frac{a+b}{2} \cdot h$$

Ромб

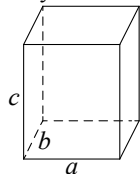


d_1, d_2 – диагонали

$$S = \frac{1}{2} d_1 d_2$$

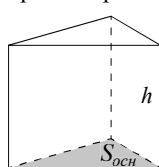
Площади поверхностей и объёмы тел

Прямоугольный параллелепипед



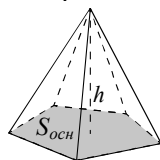
$$V = abc$$

Прямая призма



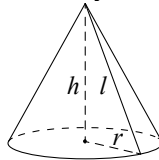
$$V = S_{осн} h$$

Пирамида



$$V = \frac{1}{3} S_{осн} h$$

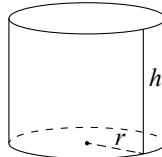
Конус



$$V = \frac{1}{3} \pi r^2 h$$

$$S_{бок} = \pi r l$$

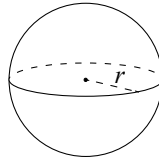
Цилиндр



$$V = \pi r^2 h$$

$$S_{бок} = 2\pi r h$$

Шар

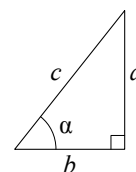


$$V = \frac{4}{3} \pi r^3$$

$$S = 4\pi r^2$$

Тригонометрические функции

Прямоугольный треугольник

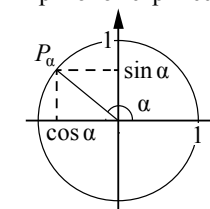


$$\sin \alpha = \frac{a}{c}$$

$$\cos \alpha = \frac{b}{c}$$

$$\operatorname{tg} \alpha = \frac{a}{b}$$

Тригонометрическая окружность



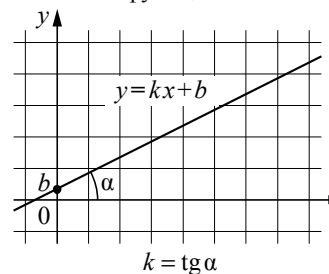
Основное тригонометрическое тождество: $\sin^2 \alpha + \cos^2 \alpha = 1$

Некоторые значения тригонометрических функций

| α | радианы | 0 | $\frac{\pi}{6}$ | $\frac{\pi}{4}$ | $\frac{\pi}{3}$ | $\frac{\pi}{2}$ | π | $\frac{3\pi}{2}$ | 2π |
|----------------------------|---------|-----------|----------------------|----------------------|----------------------|-----------------|-------------|------------------|-------------|
| | градусы | 0° | 30° | 45° | 60° | 90° | 180° | 270° | 360° |
| $\sin \alpha$ | | 0 | $\frac{1}{2}$ | $\frac{\sqrt{2}}{2}$ | $\frac{\sqrt{3}}{2}$ | 1 | 0 | -1 | 0 |
| $\cos \alpha$ | | 1 | $\frac{\sqrt{3}}{2}$ | $\frac{\sqrt{2}}{2}$ | $\frac{1}{2}$ | 0 | -1 | 0 | 1 |
| $\operatorname{tg} \alpha$ | | 0 | $\frac{\sqrt{3}}{3}$ | 1 | $\sqrt{3}$ | — | 0 | — | 0 |

Функции

Линейная функция



Геометрический смысл производной

